



Определяем время



ДОРОГИЕ ВЗРОСЛЫЕ!

Занимаясь по этой книжке, ваш малыш познакомится с разными видами часов, научится определять время, правильно называть части суток. Перед тем как выполнять задание на страничке, побеседуйте с ребёнком, объясните ему, что нужно сделать. Обязательно отвечайте на вопросы малыша по содержанию книжки, поощряйте его любознательность и речевую активность. Если некоторые вопросы покажутся маленькому ученику слишком сложными, помогите ему, объясните задание ещё раз, обязательно позанимайтесь дополнительно по этой теме. Полученные знания старайтесь закреплять и в повседневной жизни.




На циферблате часов – три стрелки. Короткая стрелка отсчитывает часы, длинная – минуты, а тонкая стрелка обозначает секунды. Она двигается быстро-быстро.

В сутках 24 часа, но делений и цифр на часах только 12. Это значит, что за сутки часовая стрелка проходит полный круг два раза. Минутная стрелка, совершая круг, показывает, что прошёл 1 час. А один оборот секундной стрелки равен 1 минуте.

Как же определить время, после того как часовая стрелка уже прошла один раз 12 делений. Продолжаем считать дальше до 24. 13 часов (на циферблате это снова 1 час, но только уже не ночи, а дня), 14 часов (2 часа дня) и т. д. Дальше попробуй определить время самостоятельно.

Для чего нужны часы? Какие виды часов ты знаешь?



Отгадай загадки.

Идут круглые сутки,
Не стоят ни минутки,
А всё на одном месте.

(Часы.)

Две сестрицы друг за другом
Пробегают круг за кругом.


(Стрелки часов.)

Ежедневно в семь утра
Я трещу: «Вставать пора!»

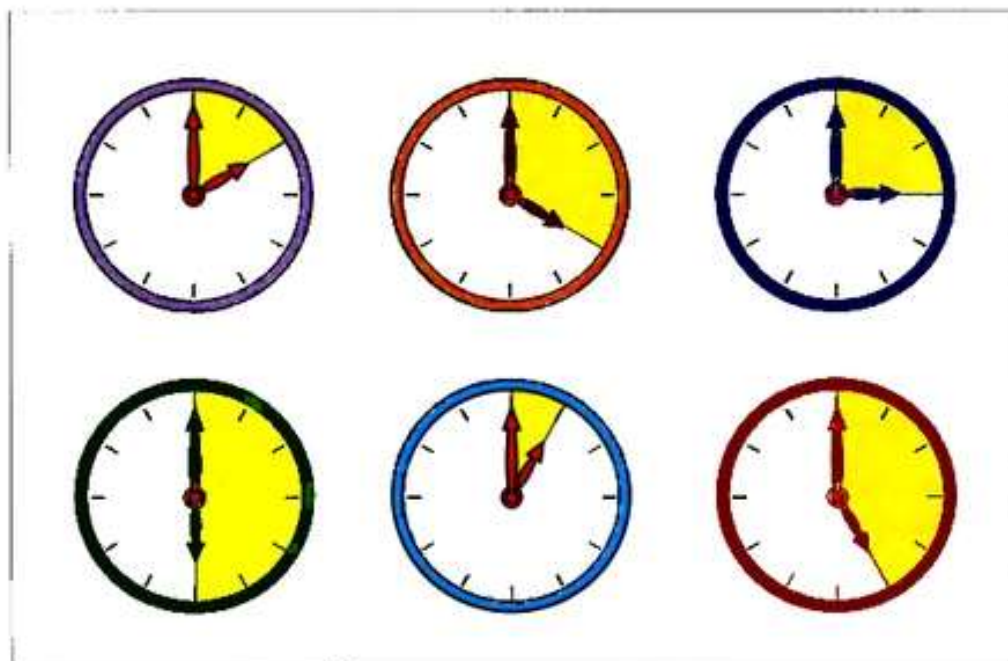
(Будильник.)

Без ног и без крыльев оно,
Быстро летит, не догонишь его.

(Время.)



Рассмотри каждый рисунок и определи,
который час.



1 час

2 часа

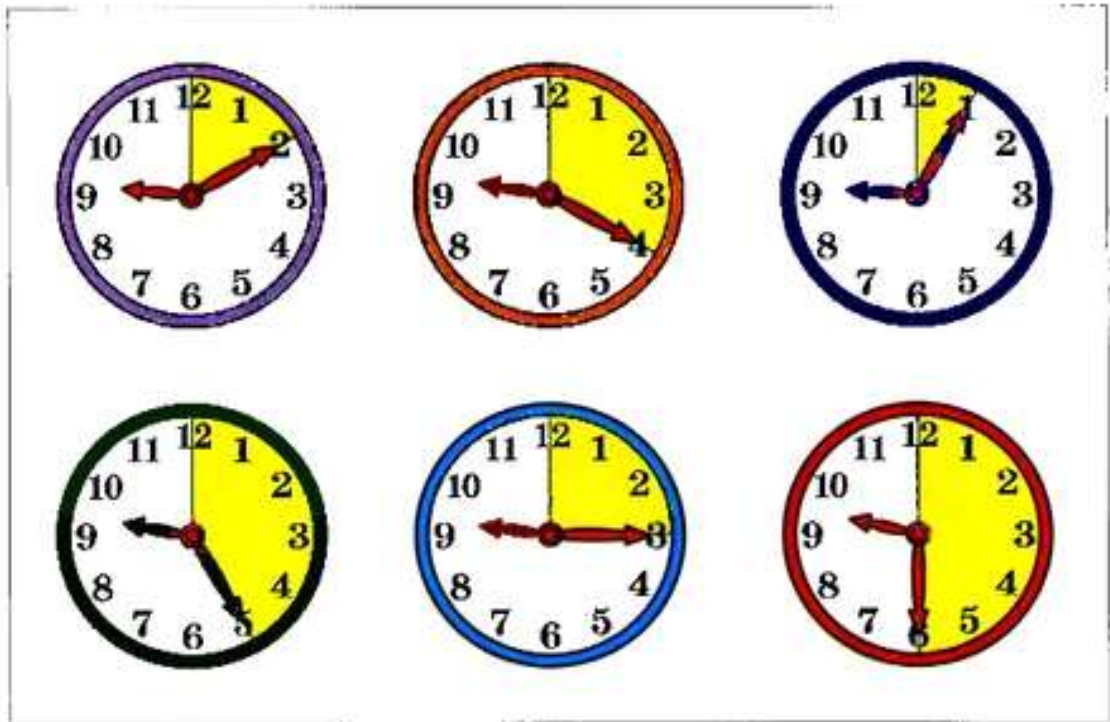
3 часа

4 часа

5 часов

6 часов

Сколько минут показывает каждая минутная стрелка?



5 минут

10 минут

15 минут

20 минут

25 минут

30 минут

Продолжи предложения по образцу.

Саша встаёт в 7 часов утра.




Саша идёт в детский сад в ...



Саша завтракает в ...



Саша рисует в ...



Продолжи предложения.

Саша гуляет в ...



Саша обедает в ...



Саша отдыхает в ...



Саша полдничает в ...



Продолжи предложения.


Саша идёт домой в ...



Саша играет в ...



Саша ужинает в ...



Саша ложится спать в ...



На каких часах время соответствует картинке?

Соедини линиями часы, которые показывают одинаковое время.



Подбери к часам подходящие картинки.



Внимательно рассмотри картинки. Что можно сделать за пять минут, за полчаса, за два часа?



Подумай и ответь на вопросы.

Девочки гуляли на улице с 5 до 7 часов вечера. Сколько времени они гуляли?



Мама шила дочке платье с 8 часов утра до 12 часов дня. Сколько времени затратила она на эту работу?

Алёша катался на велосипеде с 10 до 11 часов утра. Сколько времени мальчик катался?



Папа ловил рыбу с 7 до 10 часов утра. Сколько времени он рыбачил?